

令和五年度 皇學館中学校 S日程基礎学力試験プレ問題 (国語分野)

(解答時間は国語・算数合わせて50分)

問1 次の①～④の——部の漢字に読みがなを、カタカナは漢字に直してそれぞれ答えなさい。

- ① 相手の都合を聞く
- ② むだな解説を省く。
- ③ 商品をバイバイする。
- ④ 事故をミゼンに防ぐ。

問2 次の漢字を正しい書き順で書くと、第一画が横画となるものをア～オからすべて選び、記号で答えなさい。

- ア 右
- イ 左
- ウ 有
- エ 長
- オ 友

問3 次の①②の漢字の部首名をそれぞれひらがなで答えなさい。また、その部首がもつ意味をあとのア～エからそれぞれ選び、記号で答えなさい。

- ① 快
- ② 積

- ア 穀物に関係すること
- イ 道路や歩くことに関係すること
- ウ 人が住む村や町に関係すること
- エ 人の気持ちや考えに関係すること

問4 次の①②の各組の熟語のうち、組み立てが他と異なるものをア～エから一つ選び、それぞれ記号で答えなさい。

- ① ア 森林
- イ 増加
- ウ 寒冷
- エ 往復
- ② ア 登山
- イ 地震
- ウ 降水
- エ 離陸

問5 次の①②の意味をもつ四字熟語をあとの中身の漢字を組み合わせそれぞれ答えなさい。

- ① 人の意見を聞き流して気にかけないこと
- ② 何かをきっかけにして気持ちをかえること

小	耳	風	針	東	大	一	水
棒	明	止	心	鏡	機	馬	転

問6 次の①～③に最も適する外来語の組み合わせとして最も正しいものをあとのア～エから選び、記号で答えなさい。

- ・環境問題への取り組みには(①)な視野で考え方が必要である。
- ・クラス発表で主役をつとめることになり、強い(②)を感じた。
- ・合唱部の歌の美しい(③)に感動した。

- ア ① ジャンル
- ② ニーズ
- ③ シンポジウム
- イ ① グローバル
- ② プレッシヤー
- ③ ハーモニー
- ウ ① ワイド
- ② トラブル
- ③ コミュニケーション
- エ ① ノーマル
- ② チャージ
- ③ メリット

問7 次の①～③の——部を敬語にするととき、最も適した言葉の組み合わせをあとのア～ウから選び、記号で答えなさい。

- ① 母が先生の家へ行く。
- ② 先生から資料をもらう。
- ③ 先生が注意事項を言う。

- |   |          |        |          |
|---|----------|--------|----------|
| ア | ① うかがう   | ② さずける | ③ もうしあげる |
| イ | ① いらっしゃる | ② いただく | ③ もうしあげる |
| ウ | ① うかがう   | ② いただく | ③ おっしゃる  |

問8 次の①②の——部の単語の中で、他と性質が異なるものを一つ選んだとき、それぞれの答えの正しい組み合わせとなるものをあとのA～Dから選び、記号で答えなさい。

- ① ア 梅雨なのに雨が降らない。 イ 彼女に負けるとは信じられない。
- ウ 悪いことはしたことがない。 エ 学習参考書は見ないようにしている。

- ② ア 私の母は元気だ。 イ 明日は日曜日だ。
- ウ 森の中は静かだ。 エ 姉はいつもしとやかだ。

【答えの組み合わせ】

- |   |   |   |   |   |   |   |   |   |   |   |   |   |   |
|---|---|---|---|---|---|---|---|---|---|---|---|---|---|
| A | ・ | ・ | ① | エ | ② | イ | B | ・ | ・ | ① | ウ | ② | イ |
| C | ・ | ・ | ① | ア | ② | ウ | D | ・ | ・ | ① | エ | ② | エ |

問9 次の季節と季語の組み合わせとして正しくないものを次のア～エから一つ選び、記号で答えなさい。

- |   |       |        |       |       |
|---|-------|--------|-------|-------|
| ア | 〔春〕土筆 | 〔夏〕胡瓜  | 〔秋〕蜻蛉 | 〔冬〕蛙  |
| イ | 〔春〕入学 | 〔夏〕甲虫  | 〔秋〕露  | 〔冬〕白菜 |
| ウ | 〔春〕雪解 | 〔夏〕団扇  | 〔秋〕夜長 | 〔冬〕北風 |
| エ | 〔春〕雛祭 | 〔夏〕紫陽花 | 〔秋〕南瓜 | 〔冬〕大根 |

問10 次の①②はある作品の冒頭部分である。作品名と作者名をあとのア～クからそれぞれ選び、記号で答えなさい。

- ① 春はあけぼの。やうやう白くなりゆく山ぎは、すこしあかりて、紫だちたる雲のほそくたなびきたる。
- ② つれづれなるままに、日暮らし、硯に向かひて、心にうつりゆくよしなしごとを、そこはかとなく書きつくれば、あやしうこそものぐるほしけれ。

- |       |          |         |         |          |
|-------|----------|---------|---------|----------|
| 【作品名】 | ア 「平家物語」 | イ 「徒然草」 | ウ 「枕草子」 | エ 「源氏物語」 |
| 【作者名】 | オ 紫式部    | カ 清少納言  | キ 兼好法師  | ク 松尾芭蕉   |

問11 次の①②の文を【】の指示にしたがって、正しく書きかえなさい。（書きかえた一文をすべて解答欄に書くこと）

- ① この問題は難しすぎて大人が解いてもわからない。【「おそらく」という語を用いて】
- ② 休み時間にグラウンドで野球やガムはいけません。【「野球やガムは」の部分にくわしく】

令和5年度 皇學館中学校 S日程基礎学力試験プレ問題 (算数分野)

(解答時間は国語・算数合わせて50分)

1 次の問いに答えなさい。

(1) 次の計算をしなさい。

①  $28 \times 3.5$       ②  $4 \times (8 - 4 \div 2)$       ③  $1\frac{4}{5} - \frac{1}{3} - 1\frac{1}{15}$

④  $\frac{9}{5} \div 6 \div 2$       ⑤  $\frac{5}{3} \div (1.25 - 1\frac{1}{8}) - 1.2 \div 3\frac{3}{5}$

(2) 次の□にあてはまる数を答えなさい。

①  $4 : \square = 48 : 60$

②  $2 \times (\square \div 8 - 1) = 10$


③ 縮尺  $\frac{1}{20000}$  の地図上で6.5cmは実際には□kmです。

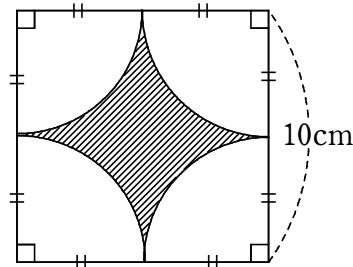
(3) 次のア～ウの中で、数が大きいものから順に並びかえ記号で答えなさい。

ア 500の3割      イ 700の20%      ウ 100の $\frac{8}{5}$

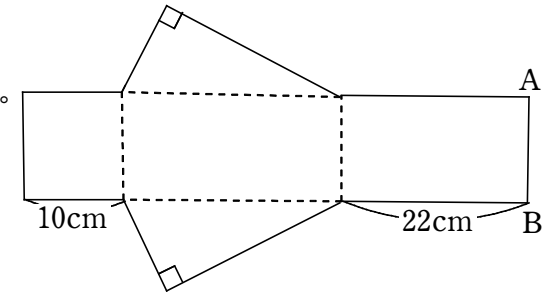
2 次の問いに答えなさい。

(1) 時速6kmの速さで歩くと2時間かかる道のりを、時速15kmの速さで自転車で走るときにかかる時間は何分ですか。

(2) 右の図の  部分の面積を求めなさい。ただし円周率を3.14とする。



(3) 右の展開図を組み立ててできる三角柱の体積が  $1430 \text{ cm}^3$  でした。このとき、ABの長さは何cmですか。



(4) Aさんの国語、社会、理科3教科の得点の平均は83点でした。算数で95点をとると、4教科の得点の平均は3教科の得点の平均よりも何点高くなりますか。

(5) 下の2つの表はそれぞれ比例と反比例の関係を表したものである。(ア)と(イ)の値が同じとき、(ウ)の値はいくつですか。

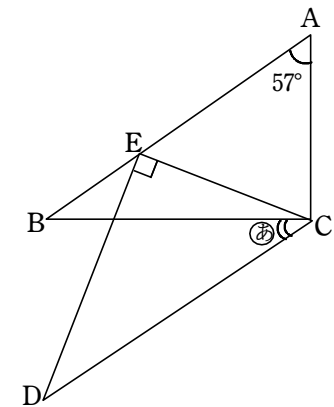
【比例】

$x$	1	2	3	...	(ア)	...
$y$	3	6	9	...	48	...

【反比例】

$x$	...	4	...	32	...
$y$	...	(イ)	...	(ウ)	...

(6) 右の図は2つの合同な三角形を重ね合わせた図で、辺ABと辺CD、辺ACと辺CEは対応する辺である。このとき、角㊸の大きさを求めなさい。



(7) あるお店にAさんは4日に1回、Bさんは5日に1回、Cさんは6日に1回行きます。2023年1月5日にそのお店で3人が出会いました。次に会えるのは2023年何月何日ですか。ただし、2023年はうるう年ではありません。