

令和5年度 皇學館中学校 入学試験問題（A日程）

社 会

問題用紙は7枚あり、問題は①から④まであります。

1 次の会話文を読み、それぞれの問いに答えなさい。

太郎：寒くなってきたから、あたたかいお茶がとても美味しいね。お茶といえば、①静岡県が有名だね。

花子：静岡県も有名だけど、②鹿児島県が静岡県を抜いて全国1位になったってニュースで聞いたような気がするけど、私の勘違いかな。

太郎：ちょっと調べてみるね。2020年の収穫量は静岡県が1位で、鹿児島県が2位だね。

花子：インターネットで調べると、出荷額で2019年に1位となったとあるね。

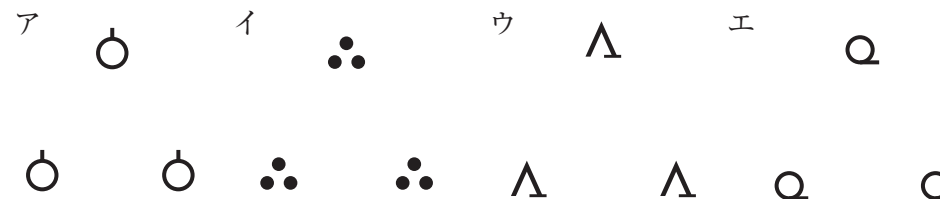
太郎：2000年のデータでは、お茶の収穫量は静岡県46.5%で、鹿児島県22.3%と大きな差があったけど、2020年は静岡県36.1%で、鹿児島県34.2%だからかなり差が縮まったね。出荷額で鹿児島県が上回ったのも鹿児島県が追い上げている証拠だね。

花子：20年でも大きな変化があるんだね。お茶以外でも何か変わっているところはないか調べてみよう。

問1 下線部①について、次の地形図は静岡県内の茶の栽培がさかんな地域を示しています。地形図中にある茶畑の地図記号として正しいものを、右のア～エのうちから一つ選び、記号で答えなさい。



(国土地理院発行2万5千分の1地形図)



問2 下線部②について、鹿児島県は茶の栽培以外にも豚の飼育にも力を入れています。次の表は、豚の飼育頭数が上位の都道府県を示しています。この中で、都道府県名と都道府県庁所在地名が違うものの組み合わせとして正しいものを、下のア～カのうちから一つ選び、記号で答えなさい。

順位	1位	2位	3位	4位	5位
豚の飼育頭数 (万頭) 2021年	鹿児島県 123.4	宮崎県 79.7	北海道 72.5	群馬県 64.4	千葉県 61.5

(日本国勢図会 2022/23 より)

- ア 鹿児島県・宮崎県 イ 宮崎県・北海道 ウ 北海道・群馬県
エ 群馬県・千葉県 オ 鹿児島県・北海道 カ 北海道・千葉県

問3 太郎さんは、面積に注目して調べました。1980年と2020年では最も面積が小さい都道府県が変わっていることに気づきました。面積の変化を表した次の表を見て、大阪府の面積が増加している理由として、当てはまるものを下のア～エのうちから一つ選び、記号で答えなさい。

面積の変化	1980年	2020年
香川県	1880km ²	1864km ²
大阪府	1877km ²	1905km ²

(データでみる県勢 2022 より)

- ア 大阪府では、関西国際空港のように海を埋め立てる工事を行ったから。
イ 大阪府では、河川の洪水対策として川幅を広げる護岸工事を行ったから。
ウ 大阪府では、世界遺産となった百舌鳥・古市古墳群などの遺跡の整備を行ったから。
エ 大阪府では、環境対策としてのリサイクル施設の整備を行ったから。

問4 花子さんは、産業別人口構成に注目して調べました。2000年と2017年の数値の変化を話し合っている会話文中の空欄 A に当てはまる語句をあとのア～エのうちから一つ選び、記号で答えなさい。

	第一次産業	第二次産業	第三次産業
2000年	5.3%	29.6%	63.9%
2017年	3.4%	24.1%	72.5%

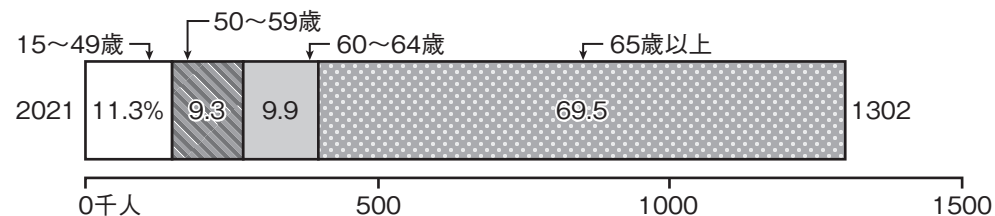
(データでみる県勢 2002・データでみる県勢 2022 より)

太郎：表を見ると、第一次産業の割合が減少しているね。第一次産業って具体的には
 どういった産業が含まれているのかな。

花子：第一次産業は、農業・林業・(A) が含まれているよ。

- ア 鉱工業 イ 商業 ウ サービス業 エ 水産業・漁業

問5 花子さんは、年齢別農業従事者の割合というグラフを見つけました。問4の表と関連させて、農業にはどのような問題が起こっているのか、簡潔に説明しなさい。



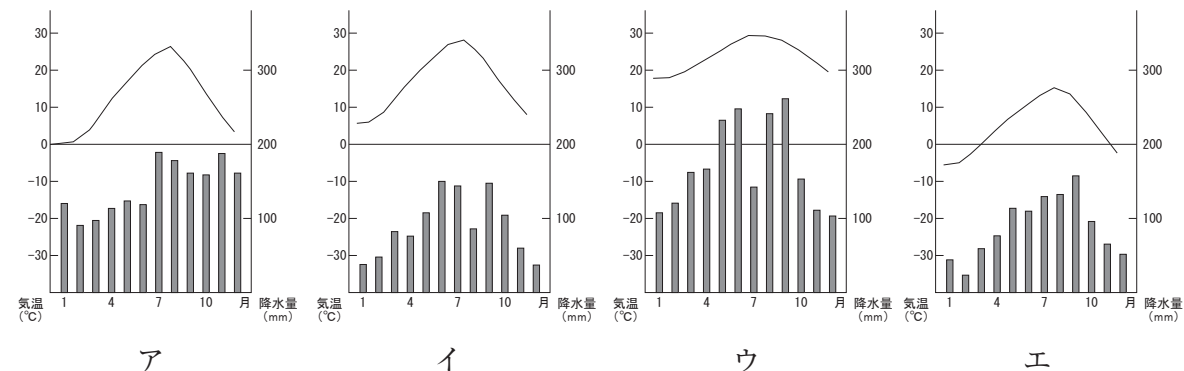
(日本国勢図会 2022/23 より)

問6 太郎さんは、自動車の保有台数と交通事故発生件数の推移を調べました。自動車の保有台数は増加しているのに対して、道路交通事故の発生件数は2000年から2020年の間は減少しています。交通事故を防ぐための自動車の工夫にはどのようなものがあるのか、簡潔に説明しなさい。

	1980年	2000年	2020年
自動車の保有台数 四輪車	37083 千台	70902 千台	76706 千台
道路交通事故の発生件数	476677 件	931934 件	309178 件

(データでみる県勢 2002・データでみる県勢 2022 より)

問7 太郎さんは、1980年から2000年の自動車の保有台数の増加には、道路交通網の発達があるのではないかと考えました。調べた結果、この期間に本州四国連絡橋が整備されたことがわかりました。次の雨温図はそれぞれ釧路市・秋田市・高松市・那覇市を表しています。四国地方の高松市を示しているものを、ア～エから一つ選び、記号で答えなさい。



問8 太郎さんは、自動車について調べていく中で次世代自動車の生産についても近年増加していることがわかりました。その調べを進めていく中で、「カーボンニュートラル」という語句を発見しました。これは地球温暖化につながる温室効果ガスの排出量を全体としてゼロにすることを示しています。下のア～オの文章の中で、日本国内での温室効果ガスの一つである二酸化炭素削減につながるものをすべて選び、記号で答えなさい。

- ア 石炭や石油から水力や風力などの再生可能エネルギーに切り替える。
- イ 過去に起こった公害の教訓を学び、環境保全の技術をアジア各国へ伝える活動を行う。
- ウ クールビズ・ウォームビズなどを実施してエアコンの温度を調節する。
- エ リンを含んだ洗剤の使用をやめ、各家庭から汚れた水を出さないようにする。
- オ マイバックやマイボトルなどを持参して、レジ袋やペットボトルの使用を減らす。

2 中学生の太郎さんと花子さんの会話の一部を読んで、それぞれの問いに答えなさい。

太郎：最近、ニュースで①ウクライナと②ロシアのニュースをよく見かけるよ。この問題はロシアがウクライナに対して、2022年2月24日に軍事侵攻^{しんこう}したことがきっかけで始まったと思っていたけど、実はその前から両国は争いがあったんだ。花子さん、知ってたかな。

花子：両国の争いといえば、領土問題だよ。そうそう、クリミア半島という名前だったよね。国際社会全体が注目して終息するために考えていかないといけない問題だよ。ロシアとウクライナの問題は、日本にも大きな影響を及ぼしているね。

問1 文中の下線部①について、ウクライナの首都名を答えなさい。また次の地図を見て、ウクライナの位置として正しいものを地図中のア～エから一つ選び、記号で答えなさい。



問2 文中の下線部②について、ロシアと日本は領土をめぐる問題を抱えている。ロシアによる不法占拠^{せんきよ}が行われている日本固有の領土を何というか、漢字四字で答えなさい。

問3 太郎さんと花子さんは、この後、日本の社会のしくみについて調べました。次のまとめの文章を読み、あとの問いに答えなさい。

〈日本社会について〉

日本社会にはさまざまなルールがあるが、そのルールの核となるのが憲法である。憲法には、基本原則があり、これは、国民主権・①基本的人権の尊重・平和主義の三つである。また、国の政治は、国会・内閣・裁判所の三つの機関が分担して仕事を進めている。2022年7月10日には、国民の代表者の一部である②参議院議員通常選挙が行われた。これらの代表者により、国の法律や国の③お金のことなど重要事項^{じこう}が決定していくため、④選挙は非常に大切だ。

(1) 下線部①について、次の資料は1989年の国連総会^{さいたく}で採択され、日本も1994年に認めた条約の一部要約です。この条文を読み、空欄【 A 】に当てはまる語句をあとのア～エのうちから一つ選び、記号で答えなさい。

(前文) 【 A 】は、社会のなかで、一人の人間として認められ、平和、^{そんげん}尊厳、自由、平等、連帯の精神のもとで育てられなければならない。

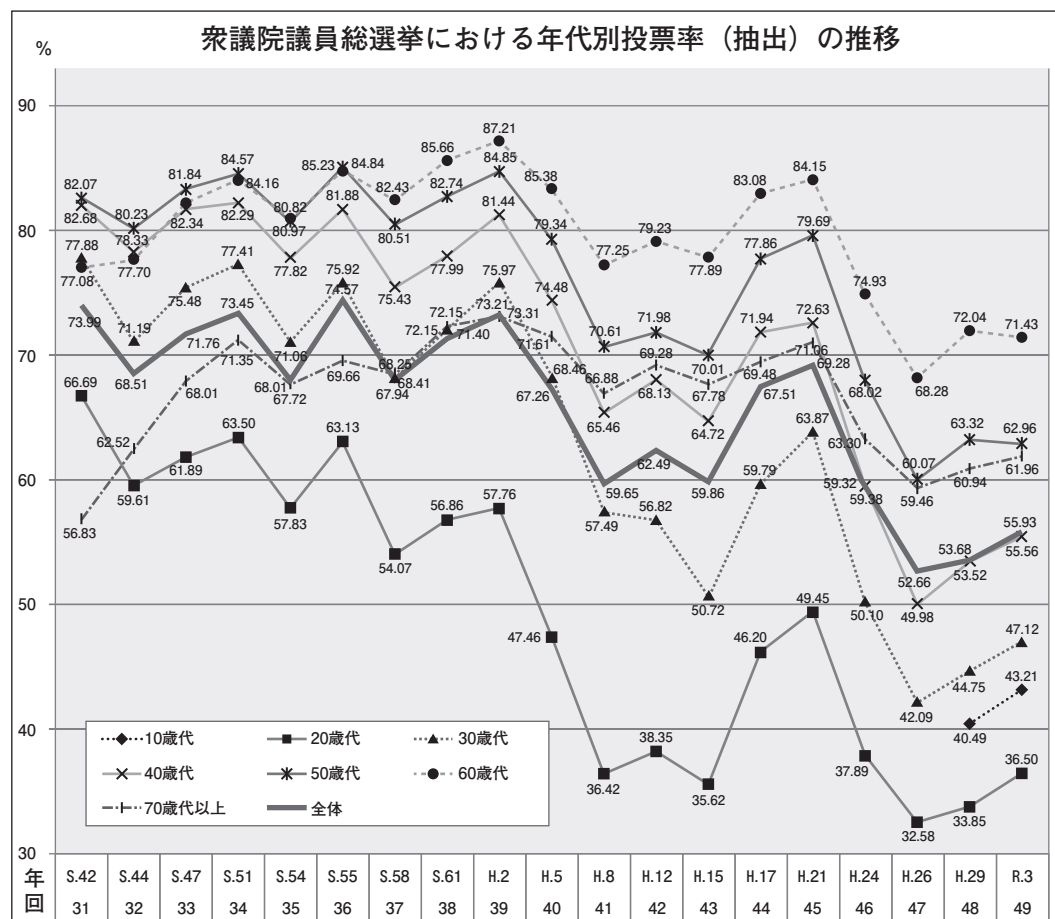
(第6条) この条約を結ぶ国々は、【 A 】はみんな、人間らしく生きる権利を持っていることを認める。

(第12条) 【 A 】は、自分に関係のあることについて、自由に自分の意見を表す権利を持っており、これは【 A 】の発達に応じて、十分に考えられなければならない。

ア 子ども イ 大人 ウ 男性 エ 女性

(2) 下線部②に関連して、日本の国会は衆議院と参議院の二院制を採用しています。衆議院の投票率に関する次のグラフを読み、下のア～オの説明文の内容が正しいものをすべて選びなさい。

(3) 下線部③に関連して、2024年から新紙幣が発行されます。次期1万円札の人物として正しいものを次のア～エのうちから一つ選び、記号で答えなさい。この人物は、「日本資本主義の父」と呼ばれ、日本初の銀行である第一国立銀行を開業した人物です。



ア 野口英世 イ 西郷隆盛 ウ 板垣退助 エ 渋沢栄一

(4) 下線部④に関連して、私たちの代表者を選出する選挙において述べた次の文章 (a) (b) を読み、その正誤の組み合わせとして正しいものを、あとのア～エのうちから一つ選び、記号で答えなさい。

- (a) 衆議院議員に立候補できる年齢は、30歳以上である。
- (b) 政治にとって国民の声は大きな力となるが、この国民の声を「国民審査」という。

ア (a) 正 (b) 正 イ (a) 正 (b) 誤
 ウ (a) 誤 (b) 正 エ (a) 誤 (b) 誤

問4 太郎さんと花子さんは、日本について調べていく中で、国民にとって住みやすい街づくりを行うための方法を考えました。次の説明文と具体例が表す、住みやすい街づくりのための考え方は何か。カタカナ十字で答えなさい。

- ア 衆議院議員の任期は6年であるため、6年ごとに選挙が行われている。
- イ 10歳代の投票率は常に20歳代より高く、30歳代より低くなっている。
- ウ 60歳代の投票率はどの年代よりも常に高い。
- エ どの選挙においても投票率がワースト1位は20歳代である。
- オ 平成21年(第45回)と平成24年(第46回)の投票結果を比較して、投票率が一番下がった年代は30歳代である。

【説明文】
 年齢・障がいの有無・性別・国籍こくせきなどに関係なく、すべての人が使いやすくなるようにつくられた製品や生活環境のこと

【具体例】
 海外からの旅行者や細かい文字が見えにくいお年寄りなどすべての人に伝わりやすくするために、交通機関・観光施設・商業施設しせつなど様々な場所で「ピクトグラム」を利用する。

3 中学生の太郎さんと花子さんは、自由研究で近年注目されている「SDGs」について調べまとめました。この内容について、それぞれの問いに答えなさい。

問1 太郎さんはSDGsの「 A 」個の目標の中でも、「2. 飢餓をゼロに」に興味を持ち、日本の食の歴史について調べることにしました。

- (1) 文章中の空欄「 A 」に当てはまる数字を答えなさい。
- (2) 約1万2000万年前の日本は、狩りや漁で生活が行われていました。当時の狩猟に使われていた道具について述べた以下の文章 (a) (b) を読み、その正誤の組み合わせとして正しいものを、あとのア～エのうちから一つ選びなさい。

- (a) 動物の骨や角、また石で作られた道具が使用された。
- (b) 当時の人々は、食べ物を煮炊きしたり、蓄えたりするための土器を作りはじめ、これらは弥生土器と呼ばれる。

- ア (a) 正 (b) 正 イ (a) 正 (b) 誤
ウ (a) 誤 (b) 正 エ (a) 誤 (b) 誤

(3) 日本には約1800年前にあった水田やむらのあとが残る遺跡で写真のような建物が残っています。この建物の名前を答え、建物の特徴を簡潔に説明しなさい。



(4) 太郎さんは調べを進めていくうちに、食文化が進展していく過程で「くに」が誕生し、古墳がつくられたことを学びました。4世紀から5世紀頃の中心人物は大王と呼ばれたが、当時は、各地の王を大王の政府の役人とする政治のしくみが整えられました。この政府を何というか、答えなさい。

問2 花子さんは、「5. ジェンダー平等を実現しよう」に関心を持ち、調べている中で、一人の人物のことを知りました。次の文章は、その人物を象徴する一場面です。文章を読んで、あとの問いに答えなさい。

「みな心を一つにしてわたしの言うことを聞きなさい。これが最後の言葉です。【 B 】様が平氏をたおして鎌倉に幕府を開いてからの①御恩は、山よりも高く、海よりも深いものです。お前たちも感謝の気持ちが浅くないでしょう。名誉をたいせつにする者は、早く敵を討ち取り、源氏三代の将軍が築きあげたものを守りなさい。」

- (1) 文章中の空欄【 B 】に当てはまる人物名を答えなさい。
- (2) 下線部①について、「御恩」とはどういったことを示しているのか、「将軍」・「御家人」という二つの語句を用いて、簡潔に説明しなさい。
- (3) この演説が行われたのは1221年のある争いに関係しています。この争いの名前を答えなさい。
- (4) 次の説明文ア～エの中から、室町時代に起こった出来事として正しいものを一つ選び、記号で答えなさい。

- ア 足利義満が勘合符を用いた明との貿易を開始した。
- イ 徳川家光が参勤交代の制度を定め、大名は1年おきに江戸と領地を往復した。
- ウ 聖武天皇が都に東大寺を建てて、巨大な金銅の仏像をつくらせた。
- エ 藤原氏が摂関政治を展開し、藤原道長のときに最も栄えた。

(5) 室町時代に関する次の文章 (a) (b) を読み、その正誤の組み合わせとして正しいものを、あとのア～エのうちから一つ選び、記号で答えなさい。

- (a) 室町幕府は足利尊氏によって開かれ、この人物は慈照寺に金閣を建てた。
 (b) 室町時代に建立した銀閣は、書院造という建築様式を用いた。

- ア (a) 正 (b) 正 イ (a) 正 (b) 誤
 ウ (a) 誤 (b) 正 エ (a) 誤 (b) 誤

4 次の会話文を読み、それぞれの問いに答えなさい。

太郎：小学校のときに転校した友達から手紙が届いたんだ。
 花子：どこに転校したのかな
 太郎：沖縄県だよ。海の近くに住んでいて、とってもきれいなんだって。
 花子：うらやましいなあ。そういえば、昨日私の家にも北海道に住んでいるおじさんから荷物が届いたんだ。中身は海産物だったと聞いたよ。
 太郎：北海道には行ったことがないけど、北海道の海もきれいなんだろうね。
 先生：太郎さん、花子さん、何のお話をしていたのかな？
 (太郎・花子が話の内容を説明する)
 先生：沖縄と言えば、2022年に沖縄返還50年の式典が行われたね。
 花子：テレビのニュースで見ました。
 太郎：50年前は…1972年になりますね。
 先生：当時の佐藤栄作首相は、ノーベル平和賞を受賞しているんだよ。北海道も2021年に新しく「北海道・北東北の縄文遺産群」が世界遺産に登録されたね。
 太郎：北海道にも沖縄にもいろんな歴史があったんだね。
 花子：ちょっと調べてみましょうよ。

太郎と花子は先生の助言を受けて、表を作成した。

時代	全国	北海道	沖縄
江戸時代	1641年 オランダ人を 出島に移す 鎖国の完成	①松前藩との交易	薩摩藩の支配下に 1853年 ②ペリーが 那覇を訪れる
明治時代	1871年 廃藩置県	1869年 蝦夷地を北海 道と改める	1879年 沖縄県となる

問1 下線部①について、アイヌの人々から松前藩に取引された品物の具体例として正しいものを、次のア～エのうちから一つ選び、記号で答えなさい。

- ア 生糸・絹織物 イ 木綿・朝鮮人参
 ウ 黒砂糖・中国の産物 エ サケ・コンブ

問2 江戸時代の沖縄は、まだ沖縄という名前ではなく15世紀初めに成立した尚^{しょう}氏の王国が存在していました。この王国の名前を答えなさい。

問3 下線部②について、幕府はペリー来航の翌年、1854年に日米和親条約を結びました。アメリカ合州国大統領の国書には3つの要求が書かれていました。その3つの要求の空欄A・Bに当てはまる言葉をあとの条約文から抜き出して答えなさい。

大統領の国書に書かれた要求

- ・難^{なん}破したアメリカ船の (A) を保護すること
- ・アメリカ船に (B) を与えること
- ・アメリカと貿易を行うこと

日米和親条約 (要約)

- 第1条 日本とアメリカは、永久の和親を取り結ぶ。これに場所や人の例外がないこと。
- 第2条 伊豆の下田と松前の函^{はこだて}館の2港は、アメリカ船が薪・水・食料・石炭などの不足する品物を買う目的に限り、来航を許す。
- 第3条 アメリカの船が日本に漂^{ひょう}着したときは、その乗員を下田・函館に送り、本国の者に引き渡すこと。
- 第4条 漂着した乗員の待^{たい}遇は、他国と同じく自由とし、幽閉^{ゆうへい}することなどないようにすること。
- 第7条 アメリカ船が下田と函館に渡来したときは、貨幣^{かへい}や品物をもって、必要なものを調達することを認めること。
- 第8条 薪・水・食料・石炭など不足する品物を求めるときは、役人が取り扱い、それ以外の取引をすることはあってはならない。
- 第9条 日本政府が他の国に対し有利な条約を結ぶ場合は、その条項^{じょうこう}をアメリカにも追加するようにすること。

問4 3つの要求の中で、日米和親条約では認められなかった貿易は、その後、別の条約で認められることになりました。1858年に結ばれたアメリカとの貿易を認めた条約の名前を答えなさい。

問5 太郎さんと花子さんは、調べを進めていくうちに三重県出身で「北海道の名付け親」と呼ばれる松浦武四郎という人物にたどり着きました。この人物が活躍^{かつやく}した江戸時代末期から明治時代のできごとⅠ～Ⅲを古い順から正しく並べたものを、あとのア～カのうちから一つ選び、記号で答えなさい。

- | | | |
|---------------|------------|------------|
| Ⅰ 大塩平八郎の乱が起こる | Ⅱ 西南戦争が起こる | Ⅲ 江戸城の無血開城 |
| ア Ⅰ→Ⅱ→Ⅲ | イ Ⅰ→Ⅲ→Ⅱ | ウ Ⅱ→Ⅰ→Ⅲ |
| エ Ⅱ→Ⅲ→Ⅰ | オ Ⅲ→Ⅰ→Ⅱ | カ Ⅲ→Ⅱ→Ⅰ |

問6 1951年に調印したサンフランシスコ平和条約において、日本は国際社会に復帰することとなりました。しかし、沖縄の復帰は認められませんでした。次のア～エのできごとのうち、1951年以降に起こったものとして正しいものを一つ選び、記号で答えなさい。

- | | |
|-------------------------------|----------------|
| ア 日本国憲法 ^{しこう} が施行される | イ ポツダム宣言を受け入れる |
| ウ 高度経済成長がはじまる | エ 女性の参政権が認められる |

問7 沖縄が日本に復帰した1970年代のできごととして正しいものを、次のア～オのうちから二つ選び、記号で答えなさい。

- ア 石油危機 (オイルショック) がおこる
- イ 第1回の東京オリンピック^{かいさい}が開催される
- ウ ベルリンの壁^{ぼうかい}が崩壊する
- エ 日韓基本条約が結ばれる
- オ 日中平和友好条約が結ばれる

令和5年度 (A日程)

社会 解答用紙

受験番号	得点

1	問1		問2	
	問3		問4	
	問5			
	問6			
	問7		問8	

3	問1	(1)	(2)	(3) 名前	
		(3) 特徴			
		(4)	問2	(1)	
		(2)			
		(3)	(4)	(5)	

2	問1	首都名	位置	
	問2		問3	(1)
	問3	(2)	(3)	
		(4)	問4	

4	問1		問2	
	問3	A	B	
	問4		問5	
	問6		問7	